

# ТЕСТ

първа група

Огради верния отговор при всяка от задачите.

1. Трицифреното число, което има брой на единиците 3, на десетиците 7, на стотиците 5, е:


- а) 375                      б) 783                      в) 573                      г) 537

ТОЧКИ

2. Числото 1000 е равно на:

- а) 1 стотица    б) 1 десетица  
в) 10 десетици    г) 10 стотици

ТОЧКИ

3.  В редицата от числа 185, 195, 205, ..., 225, ... пропуснатите числа са:

- а) 206 и 226      б) 215 и 235      в) 206 и 227      г) 207 и 226

ТОЧКИ

4. При пресмятането на израза  $(100 + 70) \cdot 5 = 100 \cdot 5 + 70 \cdot 5$  е използвано ..... свойство на умножението.


- а) разпределително    б) разместително  
в) съдружително    г) друго свойство

ТОЧКИ

5. Произведението на числата 90 и 7 е:

- а) 63                      б) 560                      в) 630                      г) 56

ТОЧКИ

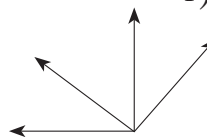
6.  Броят на правоъгълниците във фигурата е:

- а) 3                      б) 7                      в) 5                      г) 6

ТОЧКИ

7. Броят на ъглите във фигурата е:

- а) 4                      б) 5                      в) 6                      г) 7



ТОЧКИ

**ТЕСТ**

Втора група

Огради верния отговор при всяка от задачите.

1. Трицифреното число, което има брой на единиците 8, на десетиците 1, на стотиците 9, е:


- а) 189                      б) 819                      в) 981                      г) 918

ТОЧКИ

2. Числото 1000 е равно на:

- а) 10 десетици                      б) 10 стотици  
в) 10 единици                      г) 1 стоица

ТОЧКИ

3.  В редицата от числа 310, 320, 330, ..., 350, ... пропуснатите числа са:

- а) 340 и 360      б) 331 и 360      в) 331 и 351      г) 332 и 351

ТОЧКИ

4. При пресмятането на израза  $(110 - 50) \cdot 3 = 110 \cdot 3 - 50 \cdot 3$  е използвано ..... свойство на умножението.

- а) разместително                      б) разпределително  
в) съдружително                      г) друго свойство

ТОЧКИ

5. Частното на числата 560 и 8 е:

- а) 552                      б) 568                      в) 700                      г) 70

ТОЧКИ

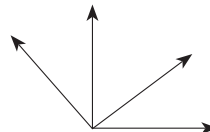
6.  Броят на триъгълниците във фигурата е:

- а) 4                      б) 5                      в) 6                      г) 7

ТОЧКИ

7. Броят на ъглите във фигурата е:

- а) 7                      б) 6                      в) 5                      г) 4



ТОЧКИ